


# SCHILDER BEACHTEN

Auf der Straße kommen immer wieder Verkehrszeichen.  
Sie sagen dir, was du machen sollst.

## Aufgabe

Lies zuerst die Sätze, und male dann die Verkehrszeichen richtig an!



**A**

Achtung, es kommt eine Baustelle.  
Einfahrt verboten.

**B**

Julia hat Vorfahrt an dieser Kreuzung. Die Autos müssen Vorfahrt gewähren.

**C**

Achtung, es kommt ein Fußgängerüberweg.  
Florian muss hier rechts abbiegen.

**D**

Florian fährt auf einem Radweg.  
Der Autofahrer folgt dem Verlauf der Vorfahrtsstraße.

# VORFAHRTSREGELUNG DURCH VERKEHRSZEICHEN

## Grundsätzlich gilt:

1. Das linke Schild bedeutet: Vorfahrt für **dich!**
2. Wer aus einem Grundstück, einem Feld- oder Waldweg oder einem verkehrsberuhigten Bereich auf die Fahrbahn fährt, hat nie Vorfahrt.
3. Vorfahrtsregeln gelten nur für Fahrzeugführer.
4. Fußgänger, die auf der Fahrbahn Fahrzeuge bloß mitführen (schieben), haben keine Vorfahrt.
5. Vorfahrtsregeln gelten nur, wenn die Fahrzeuge aus verschiedenen Straßen kommen.

Hier lernst du Kollegen von mir kennen.

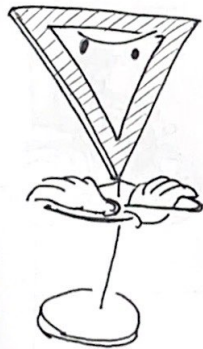



## Wichtig:

Wenn du links abbiegen willst, musst du erst die dir entgegenkommenden Fahrzeuge vorbeifahren lassen.

## Grundregeln:

Ohne Verkehrszeichen hat immer der von rechts Kommende die Vorfahrt (1 vor 2 und 2 vor 3)  
Wer keinen von rechts kommen sieht (1), darf zuerst fahren.



## Vorfahrtsregelung durch Verkehrszeichen:

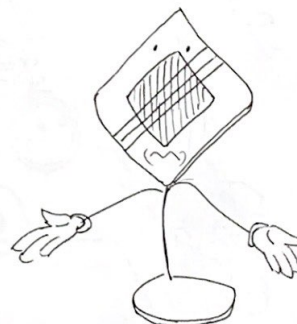

Das linke Schild bedeutet: *Vorfahrt für dich!*  
Das Schild rechts besagt: *Halt! Vorfahrt gewähren!*



## Hier hast du Vorfahrt!

Das Verkehrszeichen links unten sagt, dass du auf der kommenden Kreuzung oder Einmündung Vorfahrt hast.

Das mittlere Verkehrszeichen besagt: Jetzt befindest du dich auf einer Vorfahrtsstraße. Rechts unten: Ende der Vorfahrtsstraße.



## Ampelregelung:

Verkehrssampeln heben alle anderen Vorfahrtsregeln auf.

# RECHTS VOR LINKS


Florian und Julia kennen die berühmte Vorfahrtsregel und brauchen die Ampel gar nicht.

Wie läuft's denn ohne mich?




## Aufgabe

1. Nummeriere in der richtigen Reihenfolge!
2. Wie verhältst du dich, wenn bei einer Kreuzung aus allen Richtungen Fahrzeuge kommen?



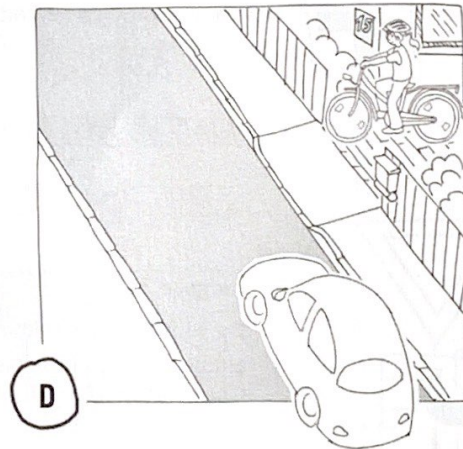

Florian  Auto  Bus



Auto  Julia  Florian

Begründung zu 2:

In diesen beiden Fällen gilt rechts vor links nicht! Begründe warum.



Begründung:

# WARUM SIND TOTE WINKEL SO GEMEIN?

Lastwagen, die abbiegen, fahren oft langsam.

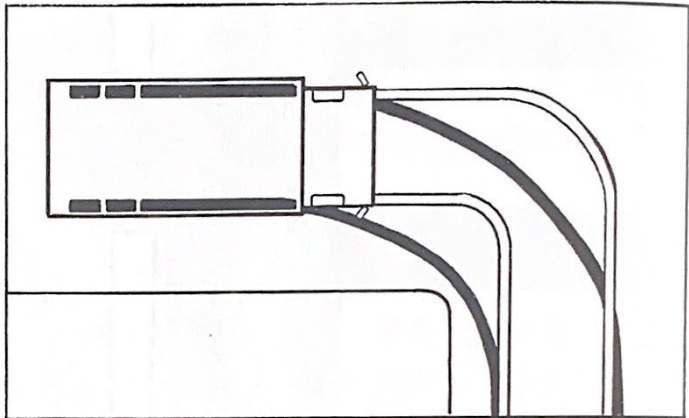
Du darfst sie trotzdem nie rechts überholen!  
Sicher bist du nur dahinter!

Ich kann's mir  
gar nicht angucken!




## Aufgabe


Male den Bereich des „Toten Winkels“  
(gekennzeichnete Fläche) rot aus.




Rundum hat jedes Fahrzeug  
vier „Tote Winkel“




Auf der rechten Fahrzeugseite



Auf der linken Seite, wenn das Fahrzeug  
überholt wird oder beim Linksabbiegen.



Vor dem Fahrzeug. Hier werden Kinder häufig  
im Schatten der A-Säulen übersehen




Hinter dem Fahrzeug „lauert“ die Gefahr  
beim Rangieren.

# VERKEHRSSZEICHEN

Kennst du jetzt alle Verkehrszeichen?

Male sie richtig an. Wenn du unsicher bist, schau auf der hinteren Umschlagseite nach.

Meine Kompanie!



Aufgabe: Zeichne zwei Verkehrszeichen, die dir auf dem Schulweg begegnen.

# WIE FAHRE ICH AN EINEM HINDERNIS VORBEI?



## Aufgabe

1. Was können Hindernisse sein? Zähle auf!

---

---

---

2. Welche Verkehrsschilder zeigen dir Hindernisse an?

---

---

---

### Die sieben Schritte

1. Über die linke Schulter **umsehen**, ob die Fahrbahn **frei** ist.
2. Das **linke Handzeichen** geben.
3. Nochmals links **umsehen**.
4. **Einordnen** und Gegenverkehr durchlassen (beobachten).
5. Mit genügendem Abstand vorbeifahren.
6. **Umsehen** über die **rechte** Schulter und bei Bedarf das **rechte Handzeichen** geben.
7. **Langsam** zum rechten Fahrbahnrand einordnen.

### Aufgabe rechte Seite

Auf Seite 33 findest du die Ausschneideteile für die rechte Seite.

1. Schneide dort die Florians aus und klebe sie rechts in der richtigen Reihenfolge auf.
2. Schreibe die einzelnen Aktionen neben die Zahlen.

7

6

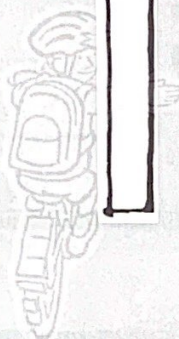
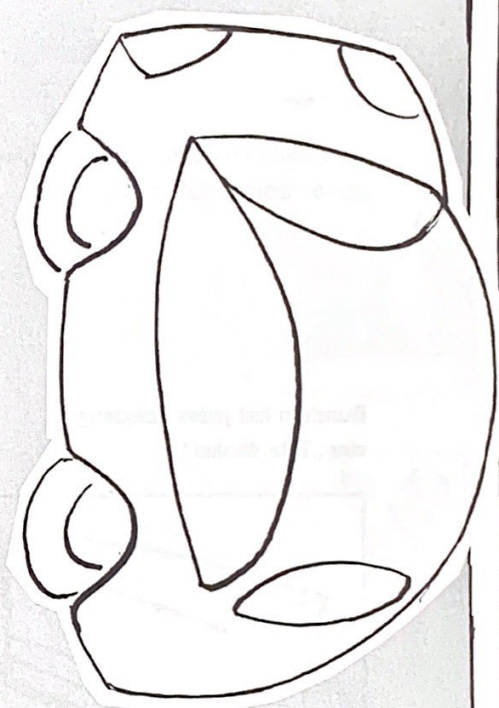
5

4

3

2


1



Ausschneideteile  
für Seite 13



Ausschneideteile  
für Seite 27



Ausschneideteile  
für Seite 31

